







Guía de verano 2018

Ciencias Naturales 2do básicos

I.- Dibuja y colorea la estructura que necesita cada animal para desplazarse.






Animal	Estructura
	
	
	
	
	
	

II.- Clasifica los siguientes animales según su forma de alimentación y responde las siguientes preguntas.

Carnívoros: C

Herbívoros: H

Omnívoros: O



Responde:

a.- ¿De acuerdo a que criterio debes clasificar?

---

b.- ¿Qué significa que un animal sea carnívoro?

---

c.- ¿Qué significa que un animal sea omnívoro?

---

d.- ¿Qué significa que un animal sea herbívoro?






---

III.- Clasifica los animales según su cubierta corporal.  
Dibuja y colorea los animales en el recuadro correspondiente.







Cóndor	Peces	Cocodrilo	Rana
Canario	Puma	Tiburón	caballo

plumas	escamas	pelos	Piel desnuda

IV.- Dibuja los órganos de los sentidos que son estímulos con cada acción.

	<input type="text"/>		<input type="text"/>
	<input type="text"/>		<input type="text"/>
	<input type="text"/>		

V.- Sonidos suaves y fuertes: Escribe en cada imagen una S si es suave y una F si es fuerte.

		
<input type="text"/>	<input type="text"/>	<input type="text"/>
		
<input type="text"/>	<input type="text"/>	<input type="text"/>

VI.- Lee atentamente y marca con una X la alternativa correcta.

1.- Las plantas se clasifican en:

- a) Objetos inertes.
- b) Seres vivos.
- c) Seres humanos.

2.- Un elástico es un material:

- a) flexible.
- b) rígido.
- c) áspero.

3.- El sentido de la visión se encuentra en:

- a) el tacto.
- b) los ojos.
- c) la boca.

4.- Si arrojo una piedra con mucha fuerza a una ventana.  
¿Qué cambios se produce en ese objeto?

- a) La ventana se moja con la humedad con la fuerza.
- b) En la ventana no se produce ningún cambio.
- c) La ventana se quiebra por el golpe de la piedra.

5.- La función del tallo es:

- a) Captar la luz solar.
- b) Sostiene las hojas y flores.
- c) Son las encargadas de la reproducción.

6.- Para escuchar utilizo el sentido de:

- a) la audición
- b) del tacto
- c) del gusto