

GUIAS DE VERANO 2018



**Espero que trabajes con
alegría y entusiasmo.**

Profesora: Ma.Carola Fuenzalida.

1.- Completa el tablero numérico de apoyo para resolver los ejercicios.

		3		5		7	8	9	
11			14		16				20
	22						28	29	
31				35			3		
			44		46	47	48		
	52				56	57			
61			64	65		67		69	
71				75			78	79	
								89	
									100

2.- Escribe el antecesor, sucesor de los siguientes dígitos.

_____ 45 _____

_____ 13 _____

_____ 28 _____

_____ 57 _____

_____ 89 _____

_____ 93 _____

_____ 39 _____

_____ 46 _____

3.- Lee y escribe el número

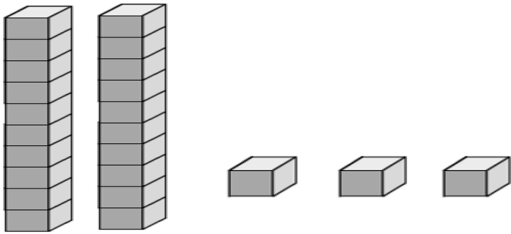
Veintiuno

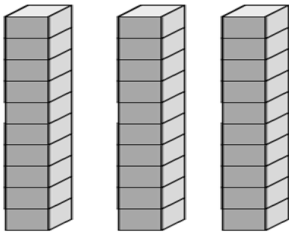
Cuarenta y dos

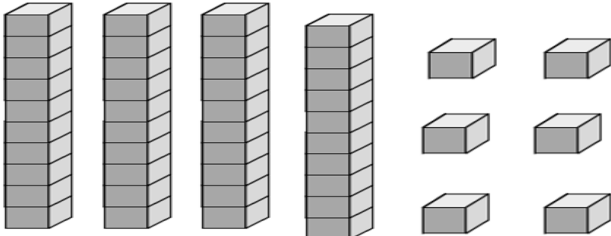
Treinta y seis

Ochenta y dos

4.- Escribe el número según corresponda.







5.- Ubica los siguientes números en la tabla dependiendo si representa unidad o decena.

43	68	56	71	89	95
-----------	-----------	-----------	-----------	-----------	-----------

DECENA	UNIDAD

6.-Sigue la secuencia

Cuenta de 2 en 2 hacia adelante

26					
----	--	--	--	--	--

Cuenta de 5 en 5 hacia adelante

15					
----	--	--	--	--	--

Cuenta de 10 en 10 hacia atrás

70					
----	--	--	--	--	--

Cuenta de 10 en 10 hacia adelante

10					
----	--	--	--	--	--

7.- Resuelve las siguientes adiciones.

41
+ 46

24
+ 11

32
+ 64

15
+ 31

87
+ 12

4
+ 15

10
+ 40

23
+ 5

8.-Observa y resuelve dibujando.

a.-Un árbol tiene 4 naranjas. Si Camila saca 1 ¿Cuántas quedan?

4 menos _____ es igual _____ Quedan _____ naranjas.

b.-Juan sopla las 12 velas de la torta. Si apaga sólo 5, ¿Cuántas quedan encerradas?

12 menos _____ es igual a _____.

Quedan _____ velas encendidas.

c.-Hay 8 perros. Si llegan 4 más, ¿Cuántos perros se juntarán?

8 más _____ es igual a _____

Se juntan _____perros