

Guía de Ciencias Naturales

Tercer Año Básico A - B

Escribe correctamente el nombre

ITEM I.- Marca con una X la alternativa correcta.

1. En el ciclo de vida de una mariposa, ¿qué nombre recibe la larva al crecer y desarrollarse?

- a) Huevo.
- b) Pupa.
- c) Oruga.

2. ¿Qué nombre recibe la mariposa en la siguiente imagen?

- a) Pupa.
- b) Huevo.
- c) Larva.



3. ¿A cuál de los siguientes grupos de animales pertenece la ballena?

A

Tiburón
Pejerrey
Trucha

B

Murciélago
León
Oso

C

Cocodrilo
Lagartija
Iguana

4. ¿Cuál de las siguientes alternativas es correcta en relación al ciclo de vida de una rana?

- a) Las larvas respiran por branquias.
- b) De los huevos nacen larvas con forma de renacuajo.
- c) Los renacuajos pueden vivir en ambientes terrestres y acuáticos.

5.- ¿Qué nombre recibe la estructura indicada con el número 1?

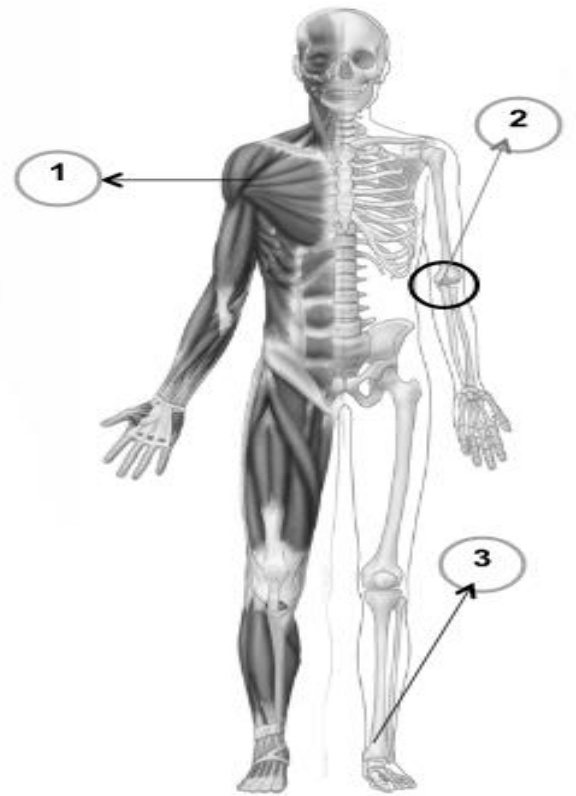
- a) Hueso.
- b) Músculo.
- c) Articulación.

6.- ¿Qué nombre recibe la estructura indica con el número 2?

- a) Hueso.
- b) Músculo.
- c) Articulación.

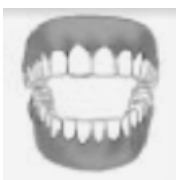
7.- ¿Cuál de las siguientes definiciones corresponde a la estructura señalada con el número 3?

- a) Unión de dos huesos.
- b) Órgano rígido, una de sus funciones es ser el sostén del cuerpo.
- c) órgano blando y elástico que interviene en el movimiento.



ITEM II. Relaciona los órganos señalados en la columna A con la función descrita en la columna B.

Columna A



Columna B

Órganos elástico que interviene en el proceso de la respiración

Órgano muscular que impulsa la sangre para que pueda llegar a todas las partes del cuerpo.

Estructura que trituran los alimentos.

Órgano donde se produce la degradación de los alimentos.

ITEM III. - Busca en la sopa de letras los nombres de los animales en peligro de extinción.



Q	W	R	Y	T	P	S	D	F	G	H	A
J	K	C	C	O	N	D	O	R	L	Ñ	S
Z	X	H	C	R	V	B	N	M	T	Q	P
S	D	I	F	T	G	H	J	K	R	L	P
W	R	N	P	U	M	A	T	Y	I	P	A
Ñ	Z	C	X	G	C	V	B	N	C	M	R
M	Q	H	W	A	R	S	D	W	A	Z	R
N	B	I	V	V	C	Ñ	L	K	H	J	I
B	A	L	L	E	N	A	A	Z	U	L	E
P	W	L	Y	R	T	R	W	Q	E	G	R
S	D	A	F	D	G	H	J	K	L	Ñ	O
C	I	S	N	E	Z	X	C	V	B	N	M



1ITEM IV.- Observa y analiza la información de la tabla y responde las preguntas.

La siguiente tabla muestra el pronóstico del tiempo para la ciudad de Los Andes en el mes de junio.

Día	Temperaturas (°C)	
	Mínima	Máxima
Lunes 4	5	19
Martes 5	3	12
Miércoles 6	8	17
Jueves 7	1	10
Viernes 8	2	13

1. ¿Qué día se registrará la temperatura más baja?

- a) Lunes 4.
- b) Jueves 7
- c) Viernes 8

2. ¿Qué día se registrará la temperatura mínima más alta?

- a) Viernes 8.
- b) Lunes 4
- c) Miércoles 6.

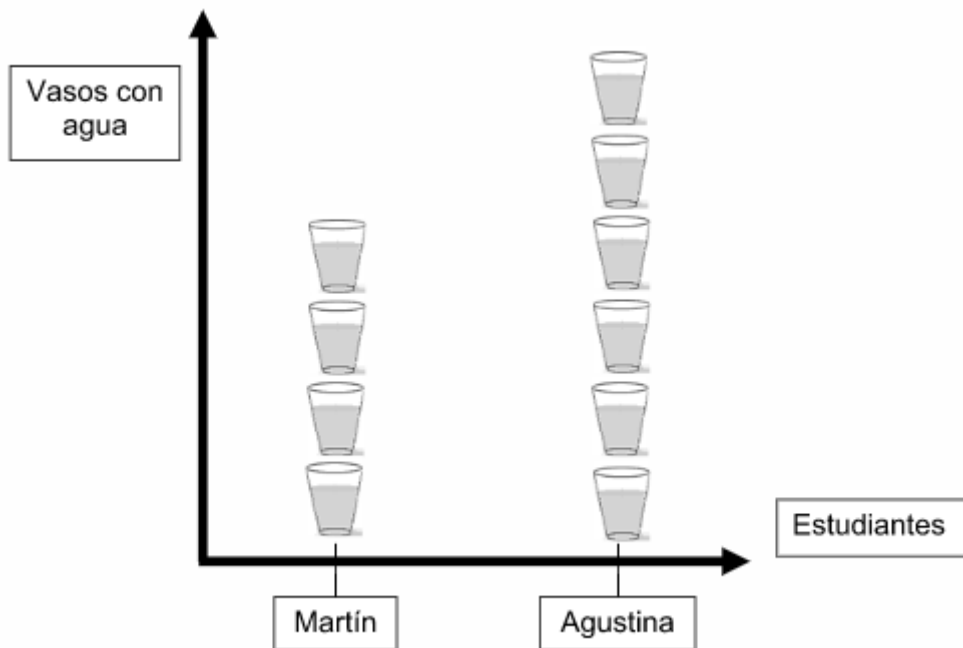
3.- Si deseamos planificar una actividad al aire libre ¿Qué día de la semana crees tú que es el más apropiado?

Día de la semana : _____

¿Por qué ?

Cuidado del agua

Observa el pictograma que muestra el agua desechada por Martín y Agustina en una mañana de clases. Luego, responde las preguntas.



1.-¿Quién cuidó más el agua?

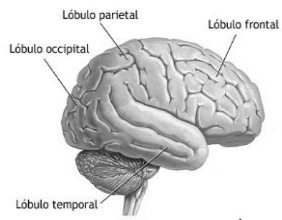
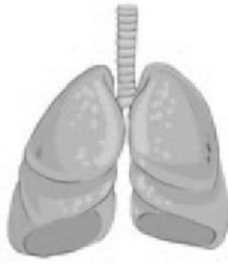
¿Por qué?

2.-¿Qué acciones para cuidar el agua en el colegio le propondrías a una compañera o un compañero que no cuida el agua? Nombra dos.

1.-

2.-

Item V- Recorta los órganos y pégalos en el lugar que corresponda
(corazón, pulmones, cerebro)



©ADAM

