

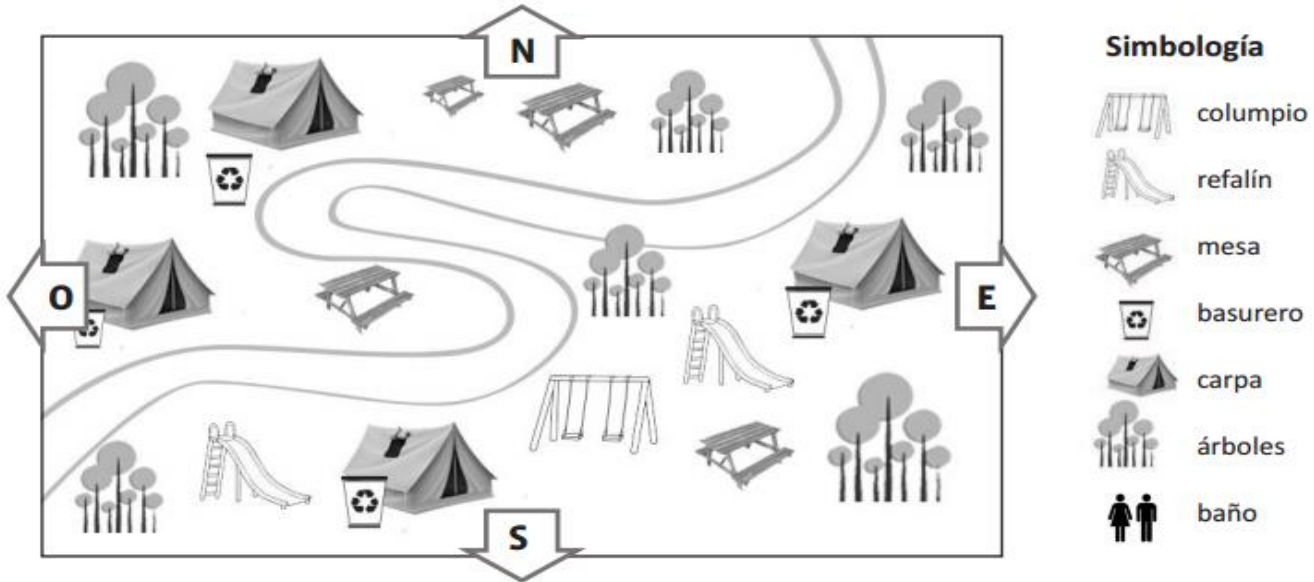
Guía de Verano 2018

Historia, Ciencias sociales y Geografía 3° Básico A - B

Nombre: _____

I. - Aprendiendo a leer un plano

Observa, piensa y responde.



a) ¿Qué símbolos se usan en este plano?

b) En el camping, ¿cuántas familias independientes caben? _____

¿Hay una mesa para cada familia? _____

¿Qué hay al lado de cada carpa? _____

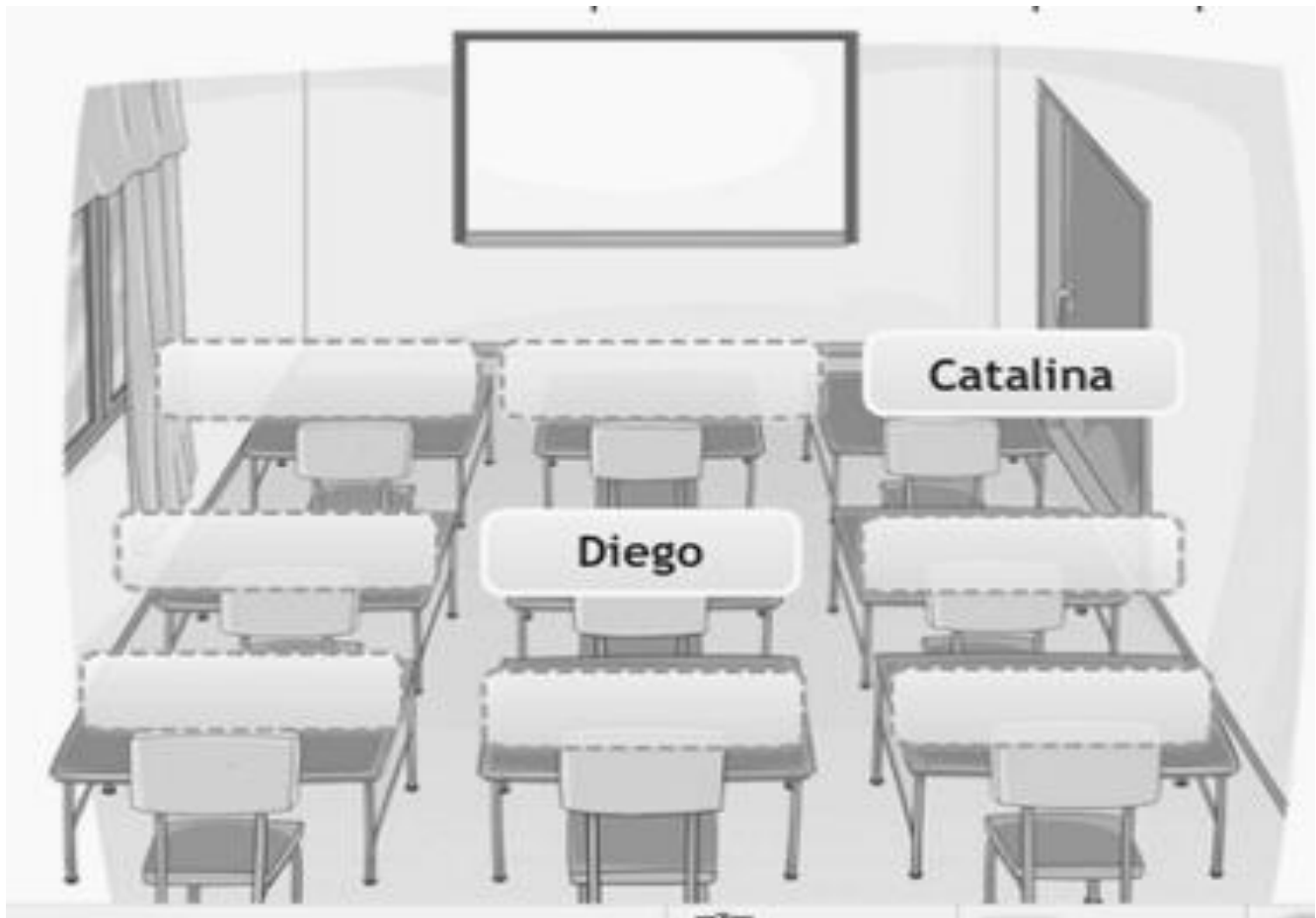
¿Lo consideras importante? Si - No

¿Por qué?

Los juegos para niños, ¿están a la izquierda o a la derecha del camino? _____

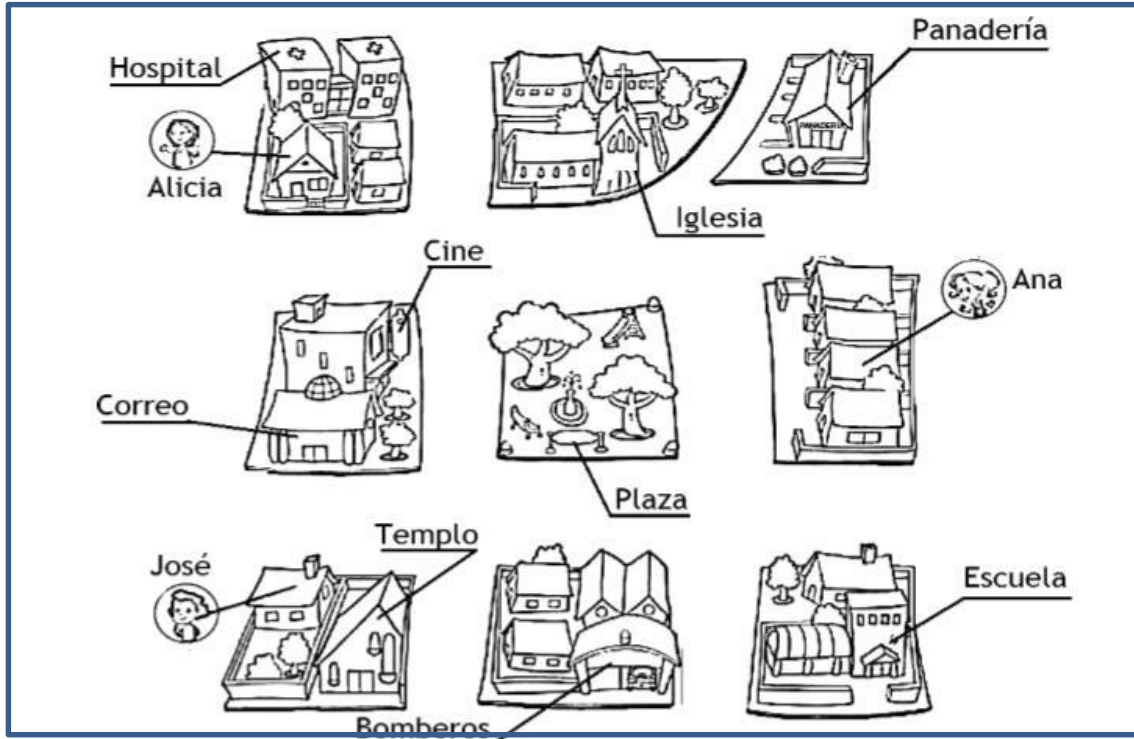
A este camping le falta algo que es muy importante para todas las personas:

II. -Observa la imagen, lee las indicaciones de la tabla y ubica el nombre de los estudiantes en el puesto que corresponde.



Nombre	¿Dónde se sienta?
Esteban	Detrás de Catalina
Javiera	A la izquierda de Diego
Antonia	Atrás de Diego
Paula	Delante de Diego
Juan	A la izquierda de Paula
Valentina	Detrás de Javiera
Raúl	A la derecha de Antonia

III. - Observa el plano de esta ciudad y responde SI o NO



- 1) _____ A la derecha del templo se ubican los bomberos.
- 2) _____ La casa de Ana está la izquierda de la plaza.
- 3) _____ La casa de Alicia queda delante del hospital.
- 4) _____ Los bomberos están muy cerca de la panadería.
- 5) _____ La iglesia se ubica a la izquierda de la panadería.
- 6) _____ Ana vive en la misma cuadra que Alicia.
- 7) _____ El correo y el cine están muy alejados.
- 8) _____ Al centro de este plano se encuentra la escuela.

IV. -Escribe en qué lugar se encuentra cada una de las personas: Isla -Cordillera
- Desierto - Bosque - Océano- Volcán. Puedes colorear




En _____



En _____



En _____



En _____

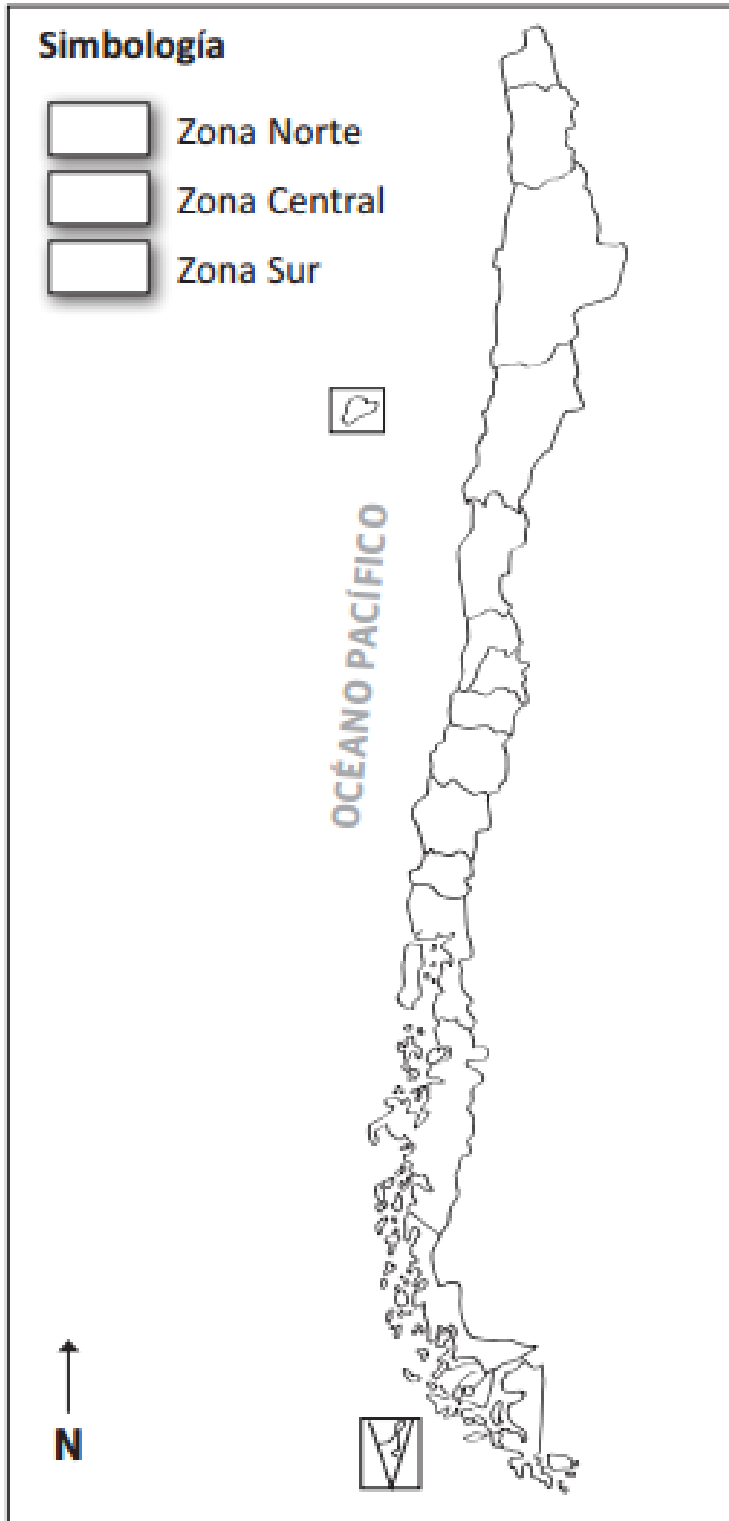


En _____



En _____

V.- Observa el mapa y realiza las actividades que se te indican.



a) Indaga y pinta con diferentes colores las tres zonas naturales que tiene Chile.

b) Pinta la simbología según corresponda.

c) **Responde:**

¿En qué zona vives tú?

¿Cómo es el clima en la zona donde tú vives?

¿En qué zona se encuentra la capital de Chile?

Ubícala en el mapa con un punto rojo.

d) Pinta de color café en donde se ubica la Cordillera de Los Andes.

e) Dibuja peces en el Océano Pacífico, colorea.