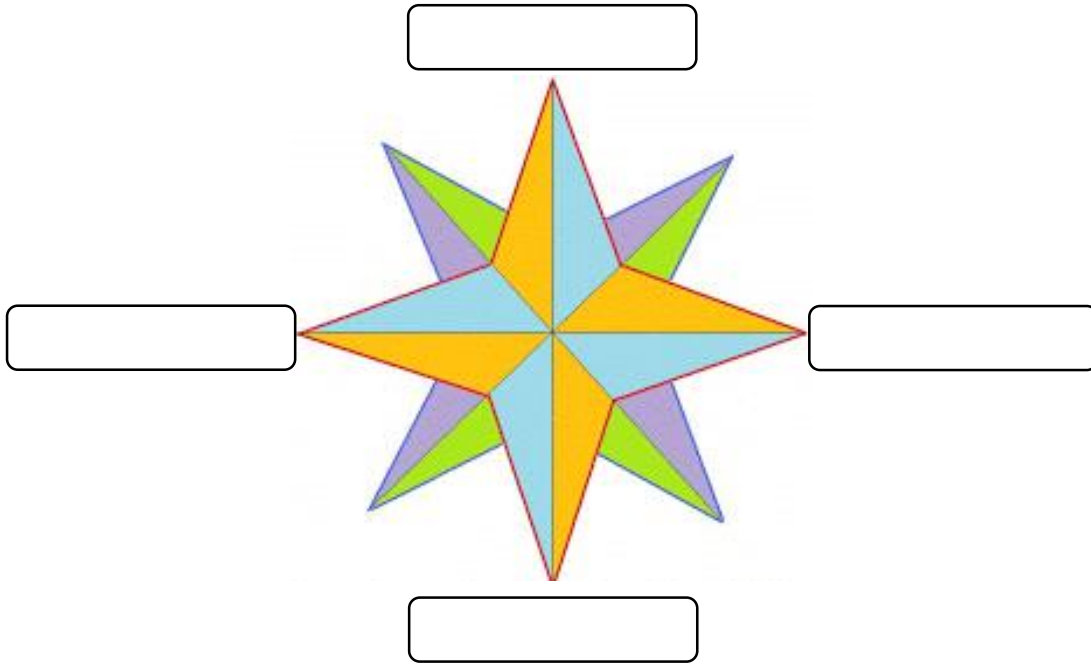



**Guía de verano. 4° básico.**  
**Historia, Geografía y Ciencias Sociales.**

Nombre: \_\_\_\_\_

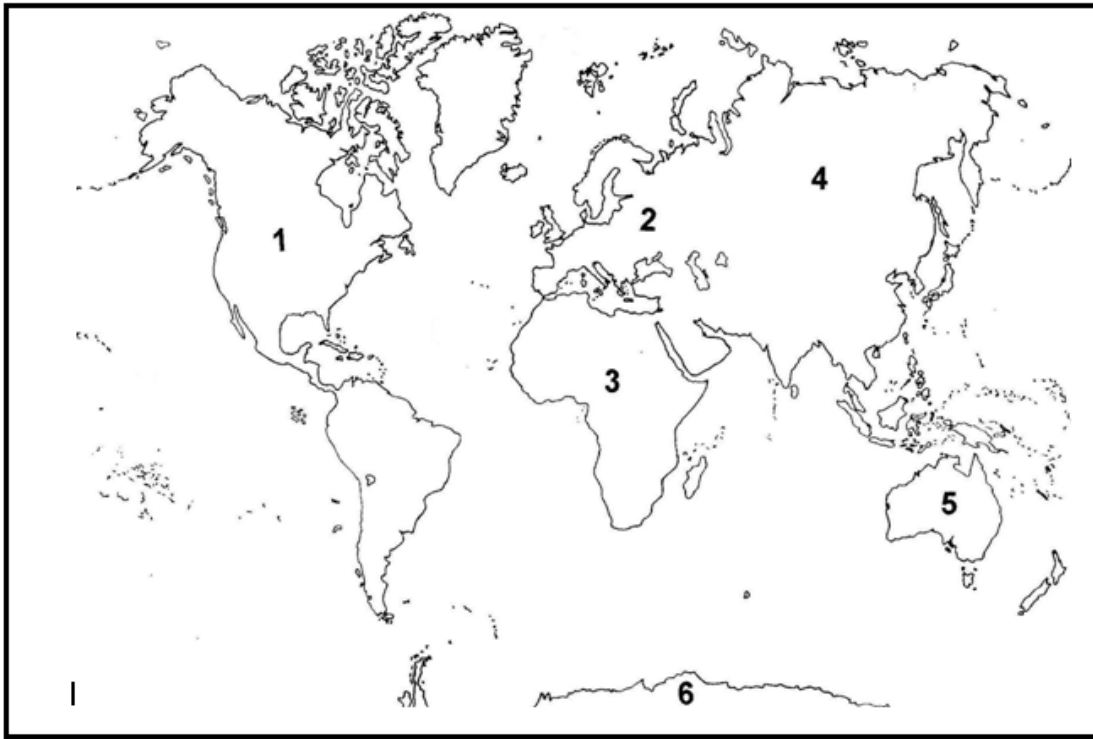
1. Identifica los puntos cardinales escribiendo el nombre correspondiente.



2. Observa el paisaje y responde las preguntas.



- a. La cordillera se encuentra hacia  
\_\_\_\_\_
  - b. Al frente de Paula, se encuentra el bosque, el que se orienta hacia el  
\_\_\_\_\_
  - c. La ciudad se ubica hacia el  
\_\_\_\_\_
  - d. Hacia el Oeste, se encuentra  
\_\_\_\_\_
3. Escribe los nombres de los océanos en el planisferio y los continentes en las líneas enumeradas según corresponde.



- |          |          |
|----------|----------|
| 1. _____ | 2. _____ |
| 3. _____ | 4. _____ |
| 5. _____ | 6. _____ |

4. Complete las siguientes oraciones:

- a. América limita al Este con \_\_\_\_\_ y al oeste con \_\_\_\_\_.
- b. América limita al Norte con \_\_\_\_\_ y al Sur con \_\_\_\_\_.
- c. América se ubica al \_\_\_\_\_ de Europa, al \_\_\_\_\_ de Asia y al \_\_\_\_\_ de África.
- d. El océano \_\_\_\_\_ separa a América de Europa

- e. El océano \_\_\_\_\_ separa a América de Asia.
- f. El océano \_\_\_\_\_ separa a América de África.